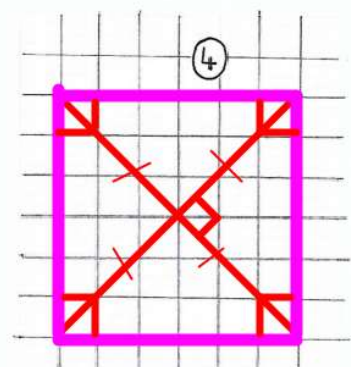
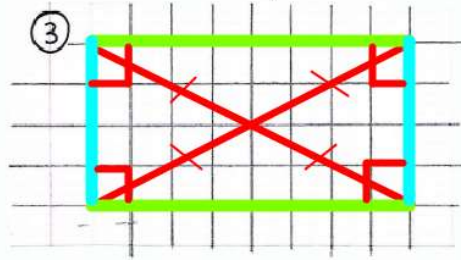
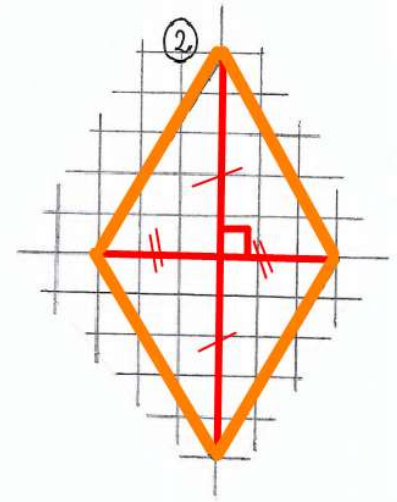
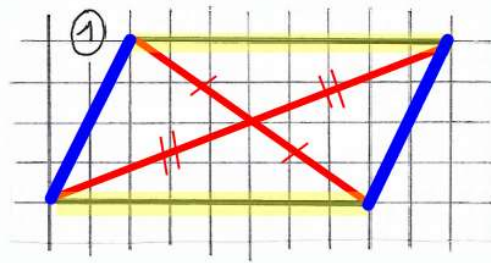


Géométrie



1) Reproduis le tableau ci dessous (où tu veux !)

A l'aide de ton travail d'hier corrigé, **coche les cases qui conviennent** et **donne le nom des quadrilatères** (pour trouver les noms tu peux t'aider de la page 160 de ton manuel de maths)

	Côtés opposés parallèles	4 côtés égaux	4 angles droits	Diagonales de même longueur	Diagonales perpendiculaires	NOM
Figure 1						
Figure 2						
Figure 3						
Figure 4						

parallèles → si besoin va voir ta leçon G3 !